

## ТЕОРЕТИЧЕСКИЙ ТУР

7 класс

КОД

*Уважаемый участник Олимпиады!*

При выполнении задания Вам предстоит выполнить определенную работу, которую лучше организовать следующим образом:

- не спеша, внимательно прочитайте задание;
- определите, какой ответ наиболее верный и полный;
- запишите Ваш ответ;
- продолжайте, таким образом, работу до завершения выполнения заданий;
- после выполнения всех предложенных заданий еще раз удостоверьтесь в правильности выбранных вами ответов;
- если потребуется корректировка выбранного Вами варианта ответа, то неправильный вариант ответа зачеркните, а новый ответ впишите рядом;
- максимальное количество баллов – \_\_\_\_\_ баллов;
- на выполнение заданий отводится не более 60 минут.


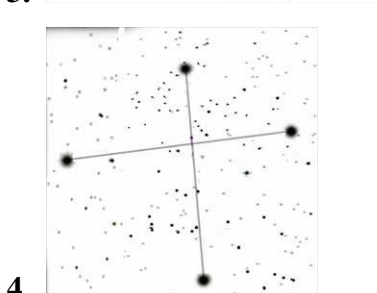
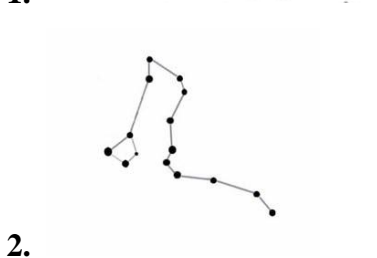
Задание считается выполненным, если Вы вовремя сдаете его членам жюри.

*Желаем вам успеха!*

*Оценочные баллы за теоретический тур: максимальный – \_\_\_\_\_ баллов;  
фактический – \_\_\_\_\_ баллов*

*Подписи членов жюри: \_\_\_\_\_*

**ЗАДАНИЕ 1.** Перед вами 5 созвездий. Напишите название только тех созвездий, с помощью которых можно определить сторону горизонта, также укажите, какую сторону горизонта с их помощью можно определить.



Оценочные баллы: максимальный – 9 баллов; фактический – \_\_\_\_\_ баллов

**ЗАДАНИЕ 2.** Расшифруйте специальные знаки для передачи информации спасателям:

| Сигналы бедствия | расшифровка |
|------------------|-------------|
| F                |             |
| П                |             |
| X                |             |
| <u>LL</u>        |             |
| K                |             |
| □                |             |
| △                |             |

Оценочные баллы: максимальный – 7 баллов; фактический – \_\_\_\_\_ баллов

**ЗАДАНИЕ 3.** Дайте определение понятию. Пешеход - это...

---

---

---

---

---

---

---

---

---

---

Оценочные баллы: максимальный – 4 балла; фактический – \_\_\_\_\_ баллов

**ЗАДАНИЕ 4.** Составьте фразу из приведенных фрагментов, поясните, что она означает, и запишите её полностью.

- а) ... состояния человека и ...
- б) ... а также химического состава ...
- в) ... учётом физической нагрузки, ...
- г) ... климатических условий ...
- д) ... выпиваемых жидкостей с ...
- е) ... нормирование объёма, периодичности,...

---

---

---

---

---

---

---


---

---


---

Оценочные баллы: максимальный – 6 баллов; фактический – \_\_\_\_\_ баллов

**ЗАДАНИЕ 5.** Вам представлены некоторые виды дорожной разметки. Напишите, что они обозначают.



1. \_\_\_\_\_



2. \_\_\_\_\_



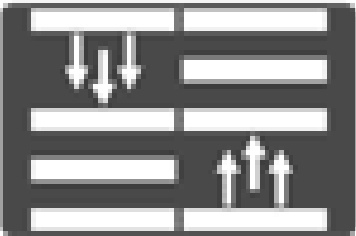
3.



4.



5.



6.

Оценочные баллы: максимальный – 6 баллов; фактический – \_\_\_\_\_ баллов

**ЗАДАНИЕ 6.** Заполните схему



Оценочные баллы: максимальный – 6 баллов; фактический – \_\_\_\_\_ баллов

**ЗАДАНИЕ 7. Перечислите группы бытовой химии.**

- 1) \_\_\_\_\_
- 2) \_\_\_\_\_
- 3) \_\_\_\_\_
- 4) \_\_\_\_\_

Оценочные баллы: максимальный – 4 балла; фактический – \_\_\_\_\_ баллов

**Тестовые задания**

В каждом задании теста только один правильный ответ, за который начисляется 1 балл. В бланке заданий обведите кружком букву выбранного варианта ответа, если в дальнейшем потребуется корректировка выбранного варианта ответа, то неправильный вариант ответа зачеркивается, а новый выбранный ответ обводится кружком.

| № | Тестовые задания   | Кол-во набранных баллов |
|---|--|-------------------------|
| 1 | <b>Когда отмечается День России?</b><br>а) 4 ноября;<br>б) 12 июня;<br>в) 12 декабря;<br>г) 22 августа.  |                         |
| 2 | <b>Пограничная область между литосферными плитами называется:</b><br>а) сейсмический пояс;<br>б) зона землетрясений;<br>в) область катастроф;<br>г) территория напряжения.   |                         |
| 3 | <b>По определению Всемирной организации здравоохранения, главным индикатором состояния здоровья населения является:</b><br>а) количество обращений в поликлинику<br>б) продолжительность лечения заболеваний<br>в) продолжительность жизни<br>г) частота посещения аптек<br>д) количество смертей на 10000 человек в год |                         |
| 4 | <b>Перевозка детей на переднем сиденье автомобиля без специального кресла допускается:</b><br>а) с 10 лет<br>б) с 12 лет<br>в) с 14 лет<br>г) с 16 лет   |                         |
| 5 | <b>Какой элемент не может являться «окислителем» при горении?</b><br>а) фтор<br>б) кислород<br>в) угарный газ<br>г) фосфор<br>д) азотная кислота   |                         |
| 6 | <b>Чем является велосипед с точки зрения правил дорожного движения:</b><br>а) механической коляской<br>б) транспортным средством<br>в) транспортным средством без двигателя<br>г) автомобилем<br>д) гужевым транспортом  |                         |

| №  | Тестовые задания   | Кол-во набранных баллов |
|----|--|-------------------------|
| 7  | <b>Повязка в виде «уздечки» накладывается:</b><br>а) при переломах носа<br>б) при обширных травмах головы<br>в) при ушибах голени<br>г) при переломе предплечья<br>д) при вывихе верхней челюсти   |                         |
| 8  | <b>Какое утверждение, относительно поездки на грузовом автомобиле, ложное:</b><br>а) нельзя ехать спиной относительно хода движения<br>б) нельзя стоять в кузове во время движения<br>в) нельзя переходить с места на место во время движения<br>г) нельзя сидеть на борту<br>д) нельзя выходить в сторону проезжей части дороги |                         |
| 9  | <b>Какой продукт содержит витамин Е?</b><br>а) капуста белокочанная<br>б) картофель<br>в) помидоры<br>г) берёзовый сок<br>д) яблоки  |                         |
| 10 | <b>Какой препарат обеззаразит воду в походных условиях?</b><br>а) хлорпантоцид<br>б) анальгин<br>в) глюкоза<br>г) калия йодид<br>д) фуфломецин   |                         |
| 11 | <b>Что измеряют шкалой MSK-64?</b><br>а) ураганы<br>б) землетрясения<br>в) наводнения<br>г) селевые потоки<br>д) осадки  |                         |
| 12 | <b>Кому должны подчиняться водители и пешеходы, если сигналы регулировщика противоречат сигналам светофора:</b><br>а) только сигналам регулировщика<br>б) только сигналам светофора<br>в) по своему усмотрению<br>г) это зависит от разметки на дороге<br>д) только дорожным знакам, находящимся в зоне видимости                |                         |
| 13 | <b>При переходе через замёрзшее озеро, лёд какого цвета будет наиболее опасен?</b><br>а) синего<br>б) зелёного<br>в) жёлтого   |                         |
| 14 | <b>В какой точке земного шара должен располагаться человек, чтоб вокруг него было только южное направление:</b><br>а) северный полюс<br>б) южный полюс<br>в) экватор<br>г) Антарктида<br>д) нулевой меридиан   |                         |
| 15 | <b>Каким видом огнетушителей разрешается тушить электрические приборы с напряжением до 1000 вольт?</b><br>а) водным;<br>б) воздушно-пенным огнетушителем;<br>в) порошковым;  |                         |